

1. «Да» или «нет»? Если вы согласны с утверждением, напишите «Да», если не согласны – «Нет». Внесите свои ответы в таблицу (1 балл за каждый правильный ответ; максимально до 10 баллов)

- 1) Деловые межличностные отношения, как правило, основаны на взаимной симпатии, общем интересе или привычке.
- 2) Человек становится личностью в процессе взаимодействия с другими людьми.
- 3) Духовные потребности всегда связаны с потребностью человека в самосохранении как биологического вида.
- 4) Понятие «индивид» используется для характеристики отличительных особенностей одного человека от другого.
- 5) Врождённые качества человека, на основе которых формируются те или иные способности, называют задатками.
- 6) Конкретные условия, в которых живёт человек, влияют на особенности его характера.
- 7) Целенаправленная и осознанная деятельность свойственна как человеку, так и животным.
- 8) Человека и других живых существ объединяет возможность осуществлять преобразовательную деятельность.
- 9) Человек взаимодействуя с обществом усваивает социальный опыт, необходимые ему навыки и умения.
- 10) Социальные нормы помогают сохранить порядок в обществе, являются эталоном поведения.

1	2	3	4	5	6	7	8	9	10
нет	да	нет	да	да	да	нет	да	да	да

2. Соотнесите понятия и их определения: (6 баллов)

1) социальная норма	А) совокупность традиционных действий, сопровождающих важные моменты жизни человека, установленных обычаем или ритуалом.				
2) этикет	Б) внешние формы поведения человека, получающие положительную или отрицательную оценку окружающих.				
3) привычка	В) мера воздействия, применяемая к нарушителям установленного порядка.				
4) манера	Г) предписания, требования, пожелания и ожидания соответствующего поведения.				
5) санкция	Д) сложившийся способ поведения в определённых ситуациях (стереотип)				
6) обряд	Ж) принятая в определённых социальных кругах система правил поведения, составляющих единое целое.				
1	2	3	4	5	6
Г	Ж	Д	Б	В	А

3. Задание 3 (6 баллов). Подберите для каждой группы слов общее понятие, составными частями которого эти слова являются.

А) Школьный класс, рабочий коллектив, спортивная команда, политическая партия, родительский комитет

Обобщающее понятие: группа людей

Б) Прямохождение, членораздельная речь, сознание, использование орудий труда

Обобщающее понятие: способности человека

В) Стадия накопления противоречий, стадия открытого противостояния, стадия достижения компромисса

Обобщающее понятие: _____

4. Что является лишним в ряду? Дайте краткое пояснение. (4 балла)

А) грусть из-за плохой отметки; ~~дружба с одноклассниками~~; восторг, вызванный услышанной песней; восхищение от просмотра нового фильма; печаль из-за затяжного дождя

Все про настроение, кроме только это про отрицательное.
Все это эмоции, а дружба это взаимоотношения.

25

Б) Семья, класс, ~~армия~~, спортивная команда, музыкальный ансамбль, трудовая бригада.

Все это группы людей, а армия нет.

15

5. Выберите все правильные ответы. Запишите их в таблицу.

По 1 баллу за каждое верное соотнесение. Всего за задание 9 баллов.

А) Что из перечисленного относится к группам, образованным по профессиональному признаку?

☒ шахтеры; 2) филателисты; 3) туристы; ☒ авиадиспетчеры; 5) пассажиры; ☒ экскурсоводы.

Б) Что из перечисленного относится к правам гражданина Российской Федерации?

☒ право на неприкосновенность частной жизни;

2) права и свободы человека и гражданина не могут быть ограничены;

3) право участвовать в управлении делами государства...;

☒ право всех на получение второго бесплатного высшего образования;

☒ право выбирать род деятельности и профессию;

☒ право собственников распоряжаться природными ресурсами в соответствии только со своими интересами.

В) Что из перечисленного относится к правилам этикета?

1) оплатить проезд в автобусе;

☒ не одевать спортивную обувь вместе с деловым костюмом;

3) не нарушать тишину и покой граждан в ночное время;

☒ в кинотеатре выключить телефон или поставить его на бесшумный режим;

5) оказывать помощь больному родственнику;

☒ подать руку девушке при выходе из транспорта.

Ответ:

А	Б	В
146 +	154	246 +

85

6. Решите правовую задачу. (5 баллов)

Родители 14-летней Тани собирались проголосовать на выборах депутатов в Государственную Думу Федерального Собрания Российской Федерации. Таня попросила родителей пойти с ними и проголосовать. Однако родители отказали Тане, мотивировав отказ тем, что она несовершеннолетняя. Но Таня не согласилась с родителями, ведь у неё есть паспорт и она гражданка Российской Федерации. Права ли Таня? Свой ответ обоснуйте.

Ответ:

Ганд не права, т.к. голосовать можно только с 18 лет, а это
сделано, чтобы политическая жизнь была более взрослой.

35

7. Соотнесите сферы общественной жизни с ситуациями, которые с ними связаны и занесите свой ответ в таблицу (1 балл за каждый правильный ответ; 6 баллов)

Сферы общества	Примеры
А) экономическая	1) Павел Анатольевич приобрёл в магазине телевизор.
Б) политическая	2) Денис Игоревич написал картину.
В) социальная	3) Иван Иванович баллотировался на пост губернатора области Z.
Г) духовная	4) Прием больных в поликлинике
	5) Показ нового кинофильма в кинотеатре
	6) Конкуренция между компаниями сотовой связи

1	2	3	4	5	6
A	Г	Б	В	A	A

58

8. Используя ВСЕ приведенные слова и словосочетания, составьте определения трёх обществоведческих понятий. Запишите в ответ термины и рядом запишите составленные вами определения (по 4 балла за каждую верную позицию, всего – 12 баллов)

- 1) контактов, процесс, людьми, и, результат, между, установления.
- 2) окружающего, форма, преобразование, специфическая, целесообразное, для человека, активности, направленная, на, мира.
- 3) особенности, личности, обеспечивающие, индивидуальные, успех, ей, деятельности, в, ею, овладения, легкость.

Ответ:

Процесс и результат установления контактов между людьми коммуникатив
и специфическое преобразование окружающего мира направленное на
целесообразное преобразование активности для человека общества.

9. Заполните пронумерованные пропуски в тексте. Запишите буквенные обозначения вставляемых понятий рядом с соответствующими порядковыми номерами в таблице. Слова в списке даны в именительном падеже. Каждое слово (словосочетание) может быть использовано только один раз. Выбирайте слова последовательно одно за другим, заполняя каждый пропуск. Обратите внимание на то, что в списке больше слов, чем вам потребуется для заполнения пропусков

(по 2 балла за каждую верную позицию, всего – 18 баллов)

С чего начинается доброта? На этот вопрос существует только один ответ: с В (1) о близких. Если человек не проявляет внимания к близким, а на людях старается выглядеть добреньким, такого мы назовём, как минимум, Д (2). Как же следует проявлять заботу о близких? Запомни три основных правила. Первое: сделай доброе У (3). Для этого ты должен как можно скорее включиться в дела своей семьи и стараться принести посильную А (4). Нельзя прятаться за чужую спину, даже родительскую. Ничего в доме не делается само собой, всё делается Г (5) твоих близких. Помогите им. Сделай доброе дело. Второе:

накапливай _____ (6) добрых дел. Старайся делать сам как можно больше и как можно лучше. Не умеешь — попроси _____ (7), научись. И не бойся ошибок — умный на ошибках _____ (8). Третье: скажи доброе слово и улыбнись. Доброе слово и добрая улыбка приятны всем. Найди для каждого доброе слово, не жалея добрых слов и не стесняйся их сказать — _____ (9) превзойдёт все ожидания.

Список терминов:


А) польза	И) опыт
Б) совет	К) дело
В) образование	Л) результат
Г) рука	М) познание
Д) лицемер	Н) школа
Е) лжец	О) забота
Ж) учить	
З) основать	

Ответ:

1	2	3	4	5	6	7	8	9
0	8	К	а	2	Л	М	Е	1

14

10. Выберите верные утверждения, соответствующие содержанию картины С. И. Медяникова «Бабушка приехала». (За каждый верный выбор - 2 балла. При выборе больше 5 утверждений - 0 баллов. Максимальный балл за задание - 6 баллов.)





- ☐ 1. На картине отражено большинство современных тенденций в развитии семьи.
- ☐ 2. Художник изобразил многопоколенную семью.
- ☐ 3. На картине отражены изменения гендерных ролей.
- ☐ 4. Изображённая художником деятельность отражает хозяйственно-экономическую функцию семьи.
- ☐ 5. Женщины, изображённые на картине, демонстрируют борьбу с проявлением гендерного неравенства.
- ☐ 6. Согласно представленному изображению, ведущая роль в осуществлении социализации младшего поколения отведена самому старшему члену семьи.

7. На картине представлен социальный институт, одной из главных функций которого является репродуктивная.

Ответ: Семья

45

11. Рассмотрите приведенные ниже изображения. Какое понятие их объединяет? Запишите его. Попробуйте передать смысл, который в него вкладывают обществоведы (или дать ему определение). Предложите названия трех любых его видов (форм). Можно ли считать данное понятие видом деятельности? Обоснуйте свой ответ.



Ответ

Понятие: Взаимоотношения между людьми.

Объяснение смысла: Взаимоотношения между людьми — это часть жизни человека. Без общения люди не смогли бы просто договориться.

Ответ на вопрос:

Дружба, любовь, работа. Нельзя, так как это нечто большее, чем просто деятельность. Она порождает и существует.

12. Разгадайте кроссворд. (По 1 баллу за слово. Максимум за задание 9 баллов)

